


## 期中检测题(B卷)(青岛版)

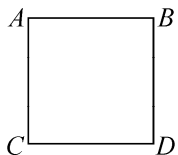
(时间:80 分钟 满分:100 分)

### 一、填空小能手(每空 1 分,共 22 分)

1. 13054896 是( )位数, 它的最高位是( )位, “3”在( )位上, 万位上是( )。
2. 6 个千万、2 个万、7 个十组成的( ), 读作:( )。
3. 比 1 亿多 1 千万的数是( ), 比 1 亿少 1 千万的数是( )。
4. 改写成用“万”作单位的数是 23400 万的数是( ), 如果省略“亿”后面的尾数大约是( )。
5. 体校李老师买了 102 个训练用的小足球, 每个 48 元; 又买了 15 个比赛用的足球, 每个 120 元。买训练用的小足球要( )元, 买比赛用的足球要( )元。
6. 两个乘数的积是 426, 其中一个乘数扩大 2 倍, 另一个乘数扩大 5 倍后, 积是( )。
7. 图中有( )条射线, 组成了( )个角。

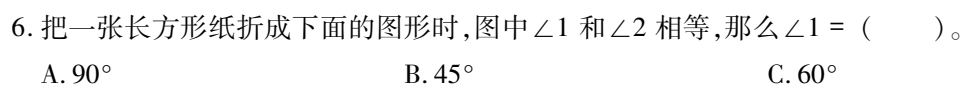


8.  $30^\circ$ 的角的( )倍是直角,( )倍是平角。
9. 如图,正方形 ABCD 中,线段( )和线段( )互相平行,线段( )和线段( )互相垂直。



## 二、选择我真行(每题 2 分,共 16 分)

- 近似数是 256 万的数是( )。  
A. 250000 B. 25651200 C. 2563988
- 下面三个数中的“9”表示 9 个千的是( )。  
A. 29035 B. 30900 C. 12009
- 小于 1 亿的自然数有( )个。  
A. 99999999 B. 100000000 C. 无数
- 角的位置与( )有关。  
A. 角的顶点的位置 B. 角的大小 C. 边的长短
- 下图中( )是直线 a 的垂线。  
A. 直线 a B. 直线 b C. 直线 c



- A. 0                      B. 1                      C. 2

8. 下列说法中正确的是( )。

- A. 45629 省略“万”后面的尾数是 45 万  
B. 红领巾中有一个钝角,两个锐角  
C. 两个乘数扩大或缩小,积也扩大或缩小

### 三、计算小神童(每题3分,共18分)

$$245 \times 23 =$$

$$125 \times 16 =$$

$$205 \times 44 =$$

$$206 \times 80 =$$

$$450 \times 20 =$$

$$35 \times 204 =$$

#### 四、巧手欢乐园(每题4分,共16分)

1. 用自己喜欢的方法画  $105^\circ$  和  $210^\circ$  的角。

2. 一张正方形纸先对折两次, 打开再沿对角折一次(如图), 这些折痕中你能找到哪些度数的角? (至少写出 5 个)

3. 过 C 点画线段 AB 的垂线。

C •

$\overline{AB}$

4. 根据找到的规律,写得数。

$12345679 \times 9 = 111111111$        $12345679 \times 81 = ( \quad )$

$12345679 \times 18 = 222222222$        $12345679 \times 90 = ( \quad )$

$12345679 \times 27 = ( \quad )$        $( \quad ) \times ( \quad ) = ( \quad )$

五、生活中的数学( 每题 7 分,共 28 分)

1. 周老师骑自行车从家到学校用了 18 分,每分行 297 米。周老师家离学校有多少米?

2. 一份稿件 5500 个字,李明平均每分钟能打 135 个字,他 40 分钟能打完这份稿件吗?

3. 一个报亭上个星期销售了 826 份报纸。照这样计算,六月份全月大约能销售多少份报纸?

4. 果园里摘了苹果和橘子各 105 筐,每筐苹果重 52 千克,每筐橘子重 48 千克。摘来的苹果和橘子一共重多少千克?(用两种方法解答)