

第二单元达标测试卷

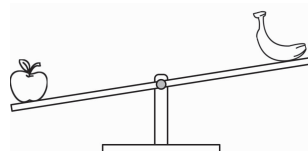
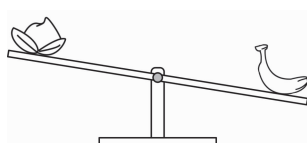
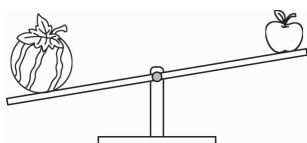
说明：满分100分，考试时间60分钟。

题号	一	二	三	四	五	六	七	总分
得分								

一、比轻重。(26分)

1. 猪八戒想吃最重的一种水果，你知道他想吃的是哪一种吗？请画上“√”。

(10分)



【考点提示】

本题主要是考查学生对多种物体轻重的认识。


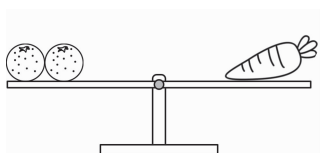
【解题思路】

第一步：用天平比较物体的轻重时，天平下沉一端的物体比较重，上翘一端的物体比较轻。

第二步：从第一个天平看，西瓜重苹果轻，从第二个天平看，香蕉重，桃子轻。从第三个天平看，苹果重，香蕉轻。通过推理判断出最重的水果是西瓜。

【参考答案】详见本卷第81页

2. 最重的画“√”，最轻的画“○”。(8分)





【考点提示】

本题主要是考查学生对多种物体轻重的认识。

【解题思路】

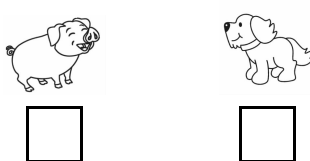

第一步:用天平比较物体的轻重时,天平下沉一端的物体比较重,上翘一端的物体比较轻。如果天平两边的重量相等,天平是平的。

第二步:左图中,一个萝卜和两个橘子的重量相等,说明一个萝卜比一个橘子重。右图中,一个菠萝和三根萝卜的重量相等,说明一个菠萝比一根萝卜重,由此可知,最重的是菠萝,最轻的是橘子。




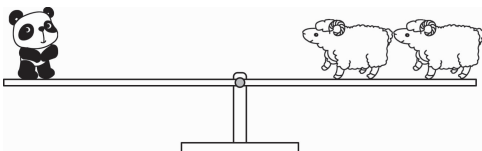
【参考答案】详见本卷第 81 页

3. 动物伙伴比一比。最轻的画“√”,最重的画“○”。(8 分)

(1)



(2)



【考点提示】

本题主要是考查学生对多种物体轻重的比较。

【解题思路】

第(1)题:第一步:用天平比较物体的轻重时,天平下沉一端的物体比较重,上翘一端的物体比较轻。

第二步:天平左边是一头小猪、一只老鼠和天平右边一只老鼠、两条狗比,左边的比右边的重,说明最轻的是小狗,最重的是小猪。

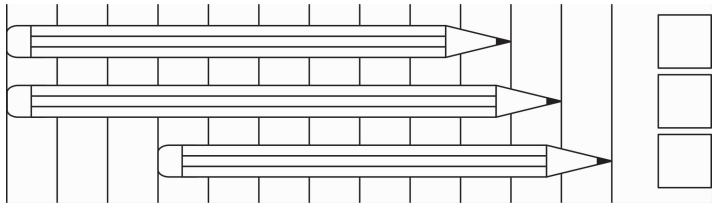
第(2)题:左图一只熊猫和两只羊比,重量相等,说明一只熊猫比一只羊重。右图两头

猪和一只羊比,重量相等,说明一只羊比一头猪重。由此可知,最重的是熊猫,最轻的是小猪。

【参考答案】详见本卷第 81 页

二、按要求比一比。(18 分)

1. 在最短的后面画“√”,在最长的后面画“○”。



【考点提示】


本题主要是考查学生对物体长短的比较。

【解题思路】

比较三支铅笔的长短,就数每只铅笔各占了几格,上面的铅笔占了 10 格,中间的铅笔占了 11 格,下面的铅笔占了 9 格,由此可推断出下面那根最短,中间的那根最长。

【参考答案】详见本卷第 81 页

2. 最小的画“√”,最大的画“○”。



【考点提示】


本题主要是考查学生对物体大小的比较。

【解题思路】

联系生活经验,再根据三种小动物的体格特点,可以判断出最小的是小鸡,最大的是小狗。

【参考答案】详见本卷第 81 页

3. 最高的画“√”,最矮的画“○”。



【考点提示】

本题主要是考查学生对物体高矮的比较。


【解题思路】

第一步:比较物体高矮时,把物体放在同一水平面进行比较。

第二步:联系生活经验,再根据三种小动物的体格特点,可以判断出最高的是长颈鹿,最矮的是小兔。

【参考答案】详见本卷第 81 页

三、比高矮,圈一圈。(12 分)



(  ) 最高, (  ) 最矮。

(  ) 爬得最高, (  ) 爬得最低。

【考点提示】

本题主要是考查学生对物体高矮的比较。

【解题思路】

第一步:根据图意,三只动物爬梯子,熊猫的身子占用了 5 格,羊占用了 3 格,小兔占了 1 格多,由此可推断出熊猫最高,小兔最矮。

第二步:根据图意可知,小兔子已经爬了 4 格,熊猫爬了一格,所以小兔子爬的最高,熊猫爬的最低。

【参考答案】详见本卷第 81 页

四、我会选择。(10 分)

1. () 厚。



2. () 根粗。



3. () 条裤子最短。



4. 最大的一个是 ()。



5. 礼品盒上的彩带最长的是 ()。



【考点提示】

本题是考查学生对物体厚薄、长短、大小的比较。

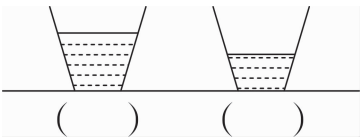
【解题思路】

此题的 5 道小题选取的都是学生比较熟悉的事物,利用已有的生活经验,根据图意可以直接做出选择。

【参考答案】详见本卷第 82 页

五、按要求做题。(20 分)

1. 两杯同样多的水,谁喝得少? 在喝得少的括号里面画“√”。(4 分)



【考点提示】


本题主要是考查学生对物体多少的比较。

【解题思路】

根据图意可知,两杯同样大小的水杯,同样多的水,左边的小男孩剩的多,说明他喝的少。右边的小女孩剩的少,说明她喝的多。

【参考答案】详见本卷第 82 页

2. 想一想,连一连,小动物分别在哪条船上? (6 分)



【考点提示】

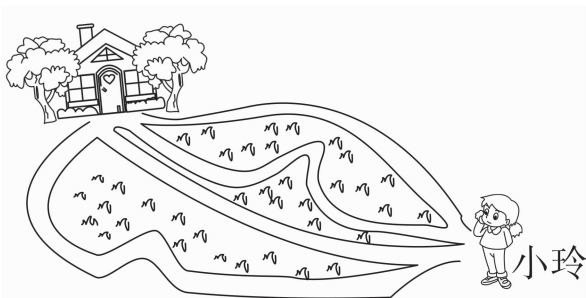
本题主要是考查学生对物体轻重的比较。

【解题思路】

根据船下沉的多少做出判断,小老鼠最轻,和下图左边船连起来,熊最重,和下图右边的船连起来。小猴子和它们比属于既不轻也不重,所以和下面中间的船连起来。

【参考答案】详见本卷第 82 页

3. 小玲走哪条路回家最近? 把最近的路涂上自己喜欢的颜色。(4 分)



【考点提示】

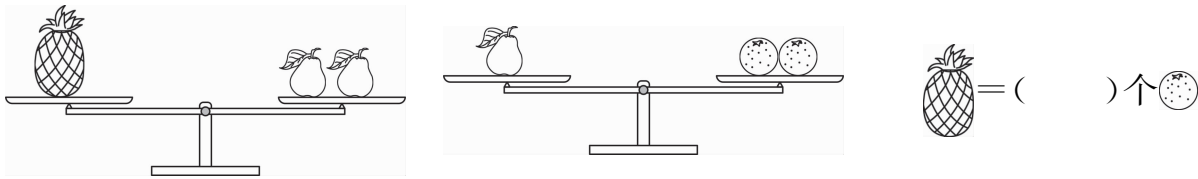
暂无提示

【解题思路】

根据图意可知,小玲回家有 4 条路可走,从左数第二条路不用拐弯,其它 3 条路都是弯弯曲曲的,所以这条路最近。

【参考答案】详见本卷第 82 页

4. 动脑想一想,再填空。(6 分)



【考点提示】


本题主要是考查学生对多种物体轻重的比较。

【解题思路】

根据图意可知,一个菠萝和 2 个梨的重量相等,一个梨和 2 个橘子的重量相等,由此可推断出 1 个菠萝的重量就等于 4 个梨的重量。

【参考答案】详见本卷第 82 页

六、从轻到重排排队。(用数字 1,2,3,4 依次表示)(8 分)





()



()



()



()

【考点提示】

本题主要是考查学生对多种物体轻重的比较。


【解题思路】

第一步:用天平比较物体的轻重时,天平下沉一端的物体比较重,上翘一端的物体比较轻。

第二步:根据图意可知,长颈鹿和兔子比,长颈鹿重。小兔和小狗比,小狗重。小狗和熊猫比,熊猫重。长颈鹿和熊猫比,长颈鹿重。由此可推断出长颈鹿排第 1,熊猫排第 2,小狗排第 3,小兔排第 4。

【参考答案】详见本卷第 82 页

七、在相同的时间内,()号桶接到的雨水最多。(6 分)



【考点提示】

暂无提示

【解题思路】

根据图意可知,③号桶最大,所以在相同时间内,接到的雨水最多。

【参考答案】详见本卷第 82 页