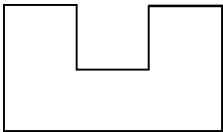


期中检测题(B卷)(人教版)

时间:70 分钟 总分:100 分


一、我会填(每题 2 分,共 22 分)

1. 一条红领巾有 1 个( )角,2 个( )角;数学书的封面有( )个直角。
2. 右图是由( )条线段组成的,有( )个直角。
3. 在括号里填上合适的单位。  
一座楼房大约高 18 ( )。  
小红的身高约 145 ( )。  
一张木床长 2 ( )  
教室长 9 ( )。
4. 比 20 少 5 的数是( );20 比一个数少 5,这个数是( )。
5.  $5+5+5+5$  改写成乘法算式是( )或( ),口诀是( )。
6. 在  $\bigcirc$  里填上“>”、“<”或“=”。

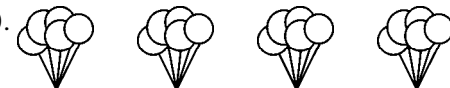


$4 \times 6 \bigcirc 5 \times 5$        $34 - 20 \bigcirc 44$        $3 + 3 \bigcirc 3 \times 3$

$5 + 16 \bigcirc 5 + 6$        $4 \times 5 \bigcirc 3 \times 5 + 5$       1 米  $\bigcirc$  50 厘米 + 60 厘米

7.   
每盘有( )个苹果,( )盘,一共有( )个苹果。
8. 先把口诀补充完整,再根据每一句口诀写出两个乘法算式。  
三五( ) ( )四得八

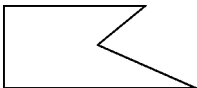
9.  $\triangle \triangle$     $\triangle \triangle$     $\triangle \triangle$     $\triangle \triangle$     $\triangle \triangle$     $\triangle \triangle$   
加法算式: \_\_\_\_\_ 乘法算式: \_\_\_\_\_

10.   
 $\square \times \square = \square$        $\square \times \square = \square$

11. 在  $\bigcirc$  里填上“+”、“-”或“ $\times$ ”。
- $4 \bigcirc 5 = 20$        $18 \bigcirc 6 = 12$        $2 \bigcirc 3 = 6 \bigcirc 1$        $3 \bigcirc 2 = 5$

二、我会选(每题 1 分,共 8 分)

1. 角的大小和两条边的长短( )。  
①有关      ②无关      ③不能确定
2. 一个三角板上有( )个直角。  
①1      ②2      ③3
3. 右图中有( )个角,其中有( )个是直角。  
①2      ②3      ③4      ④5
4. 要量一条街道的宽,用( )作单位。  
①厘米      ②米      ③分米
5. 比 39 多 12 的数是( )。  
①27      ②41      ③51
6.  $2+2+2+2+2+2-1$  可以写成( )。



- ① $2 \times 6 - 1$                   ② $1 \times 4 - 2$                   ③ $2 \times 3$   
 7.  $3 + 3 + 3 + 2$  可以写成(                  )。  
 ① $3 \times 3$                   ② $3 \times 4$                   ③ $3 \times 3 + 2$   
 8. 3 个 4 连加的和是多少? 列式错误的是(                  )。  
 ① $4 \times 3$                   ② $3 \times 4$                   ③ $3 + 4$

三、我会裁判( 每题 1 分, 共 6 分)

1.  $6 + 6$  表示 6 个 2 连加。 (                  )  
 2. 3 个 7 连加的算式是  $7 + 7 + 7$ 。 (                  )  
 3. 两个数相乘的积一定比两个数相加的和大。 (                  )  
 4. 6 和 3 相乘, 可以写作  $6 \times 3$ , 读作 6 乘 3, 口诀是三六十八。 (                  )  
 5. 学校操场环形跑道长 60 厘米。 (                  )  
 6. 比 30 厘米少 10 厘米的线段长 40 厘米。 (                  )

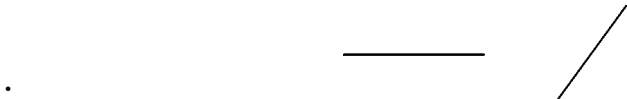
四、小小会计师( 共 24 分)

1. 口算题。( 10 分)  
 $5 \times 6 =$                    $45 + 9 =$                    $7 \times 3 =$                    $3 + 4 =$                    $5 \times 3 + 10 =$   
 $9 - 3 =$                    $71 - 3 =$                    $5 + 4 =$                    $17 - 9 =$                    $4 \times 2 - 4 =$   
 $2 \times 2 =$                    $8 + 75 =$                    $1 \times 4 =$                    $100 - 20 =$                    $5 \times 6 - 20 =$   
 $4 \times 6 =$                    $24 + 13 =$                    $5 \times 5 =$                    $12 - 8 =$                    $3 \times 5 + 70 =$   
 2. 竖式计算。( 每题 2 分, 共 14 分)  
 $62 + 35 =$                    $89 - 34 =$                    $17 + 79 =$                    $90 - 84 =$

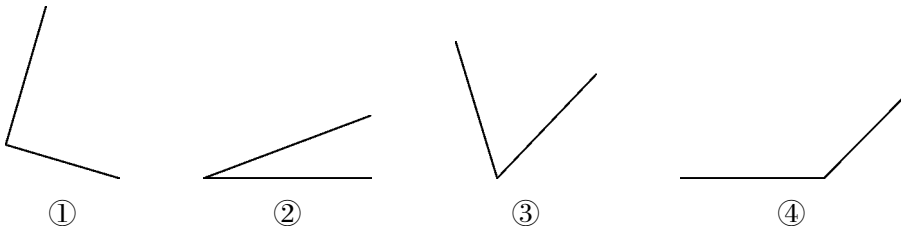
$46 + 27 + 18 =$                    $85 - 58 - 14 =$                    $71 - 65 + 34 =$

五、小小设计师( 12 分)

1. 用给出的一点画角,                  2. 用三角板画直角。( 3 分)  
     并写出角的各部分的名称。( 3 分)



3. 按从大到小的顺序排列下面四个角, 把序号填在(                  )里。( 4 分)



- (                  ) > (                  ) > (                  ) > (                  )  
 4. 画一条比 8 厘米短 3 厘米的线段。( 2 分)

六、我会解决问题(共 28 分)

1. 小明买一把伞,付出 50 元,售货员找他 38 元,一把伞多少钱?(4 分)

2. 爸爸买一个足球和一双运动鞋,一共用了多少元钱?(4 分)



3. 果园里有桃树 35 棵,比梨树少 28 棵,梨树有多少棵? 梨树和桃树一共有多少棵?(6 分)

4. 二(1)同学分成 6 组,前 5 个小组,每组有 6 个同学,最后一组只有 4 人,这个班一共有多少人?(5 分)

5.      薯片                  牛奶                  饼干  
        每包 5 元          每盒 3 元          每包 6 元

(1) 小红买了 3 盒牛奶一共用去多少元?(3 分)

$\square \bigcirc \square = \square$  (      )

(2) 小明有 20 元钱买一种东西正好用完,他可以买什么?(3 分)

他买的是(      )。       $\square \bigcirc \square = \square$  (      )

(3) 你还能提出什么问题并解决?(3 分)

\_\_\_\_\_  $\square \bigcirc \square = \square$  (      )