

## 第3课时 数图形的学问




### 课前自主梳理

开心预习新课,轻松搞定基础。

1. 数一数,填空。

(1)下图中有( )条线段。



①单条的线段有( )条;

②由2条线段组成的线段有( )条;

③由3条线段组成的线段有( )条。

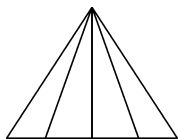
(2)数一数,右图中共有( )个三角形。

①单个的三角形有( )个;

②由2个小三角形组成的三角形有( )个;

③由3个小三角形组成的三角形有( )个;

④由4个小三角形组成的三角形有( )个。




(3)数一数,右图共有( )个长方形。

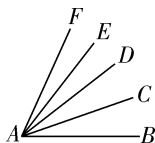
①单个的长方形有( )个;

②由2个小长方形组成的长方形有( )个;

③由3个小长方形组成的长方形有( )个。



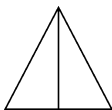
(4)数一数图中有( )个角。



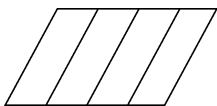
### 课堂快乐提升

重难点,一网打尽。

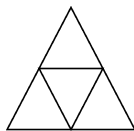
2. (1)数一数。



( )个三角形

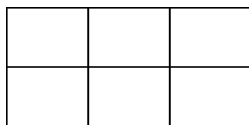


( )个平行四边形



( )个三角形

(2)数数下图共有( )个长方形。



(3)数一数,下图有( )个平行四边形。



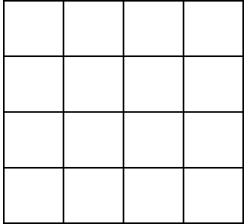
(4)下面共有( )个长方形。



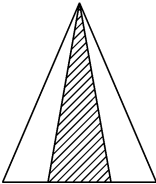
**课后拓展冲浪**

源于教材,宽于教材,拓展探究显身手。

3. 下面共有( )个正方形。



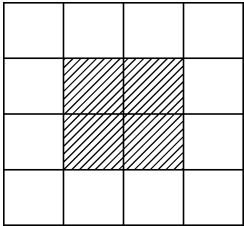
4. 图中包含阴影的三角形有( )个。



5. 带☆的长方形有( )个。



6. 图中有( )个和阴影部分一样大的正方形。



**第 3 课时**

- 1.** (1)6   ①3   ②2   ③1  
(2)10   ①4   ②3   ③2   ④1  
(3)6   ①3   ②2   ③1   (4)10
- 2.** (1)3   10   5   (2)18  
(3)18   (4)15
- 3.** 30   **4.** 4   **5.** 9   **6.** 8