

天安门广场

学习目标视窗

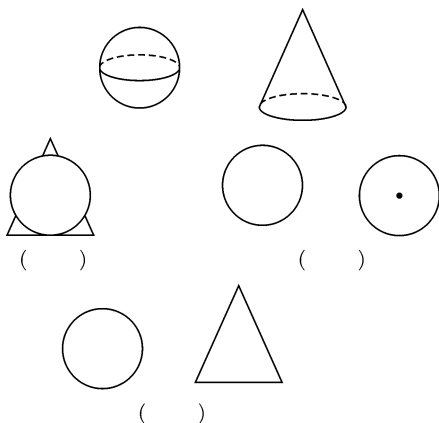
1. 通过观察、比较一些照片,能够识别和判断所拍摄地点与照片的对应关系。
2. 通过观察连续拍摄到的一组照片,能够判断照片拍摄的前后顺序。



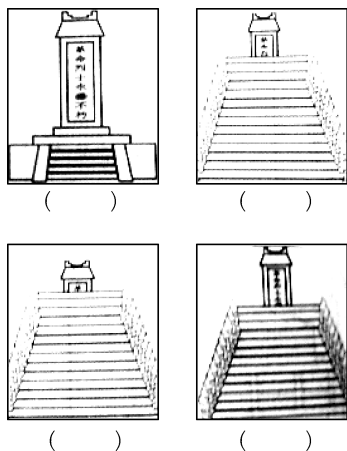
基础巩固提优

夯实课内基础,才能有所突破……

1. 如图,一个球体和圆锥放在桌面上,下面三幅图是从哪个方向看到的?


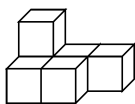


2. 小明向革命烈士纪念碑走去,请用①、②、③、④标出顺序。


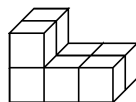


3. 按要求画一画。


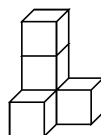
分别画出从正面、左面和上面看到的图形。



正面 左面 上面



正面 左面 上面



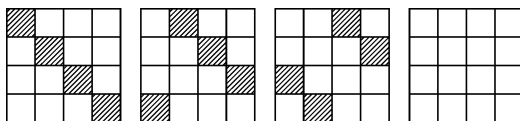
正面 左面 上面



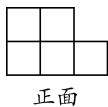
思维拓展提优

这是一座由课内通向课外的桥梁……


4. 下面一组图形的阴影变化是有规律的,请根据这个规律把第四幅图的阴影部分画出来。



5. 一个立体图形从三个面看到的如下图,这个立体图形有多少个小正方体组成?试着画出来。



正面



左面



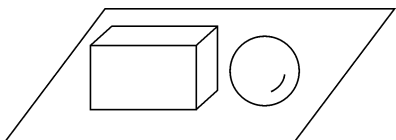
上面



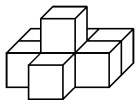
开放探究提优

跃过去，你就是尖子生！

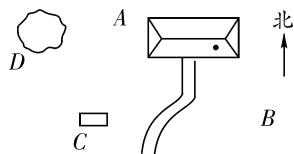
6. 画出从正面、左面和上面看到的图形。



7. 下面图形是由 8 个小正方体拼成的，如果把
这个图形的表面涂上红色，底面不涂，那么，
没有一面涂红色的有()个小正方体；只
有两个面涂红色的有()个小正方体；只
有三个面涂红色的有()个小正方体；只
有四个面涂红色的有()个小正方体；只
有五个面涂红色的有()个小正方体。



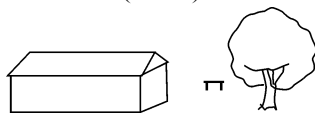
8. 看图回答问题。




上图是从空中看到的玲玲家。房子周围有
一棵大树、一个石凳，门前还有一条小路，
下面四幅图，分别是 A、B、C、D 哪一点看到
的？



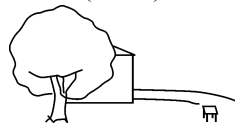
()



()



()



()

天安门广场

1. 左面 上面 前面 2. ④ ② ① ③
3. 略 4. 略 5. 略 6. 略
7. 1 1 4 1 1
8. *B A C D*