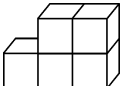

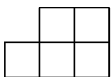



第二单元素质测评试卷

(总分:100分 时间:90分钟)

题号	一	二	三	四	五	六	七	附加题	总分
得分									

一、下面的图形分别是哪个方向看到的？填一填。(12分)

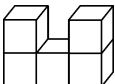
1.    

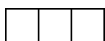
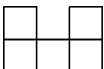


(上面) (前面) (左面或右面)


2.    


(左面或右面) (上面) (前面)

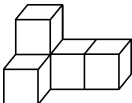
二、快乐点击。(14分)

1.  从前面看到的形状是(**B**)。

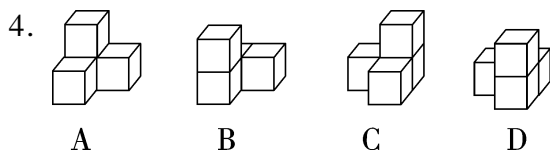
A.  B.  C.  D. 


2.  从右面看到的形状是(**B**)。


A.  B.  C. 


3.  从上面看到的形状是(**A**)。


A.  B.  C.  D. 



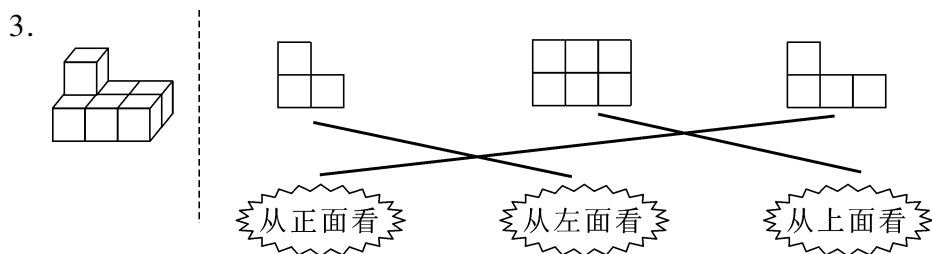
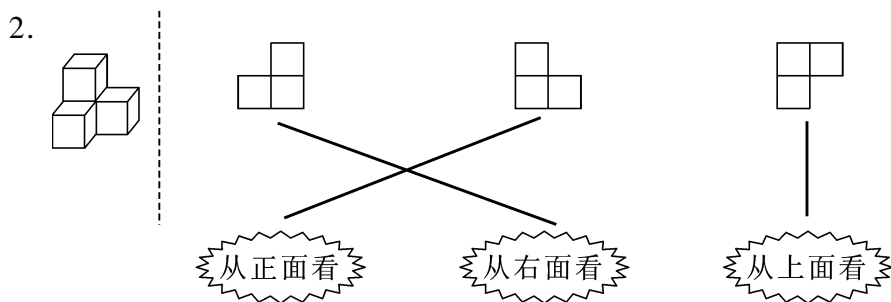
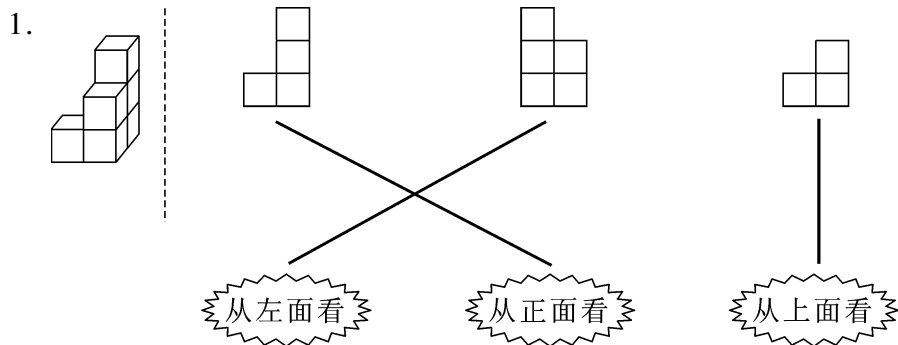
(1) 从前面看,形状是  的图形有(**AB**)。

(2) 从前面和左面看,形状都是  的图形有(**D**)。

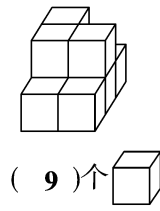
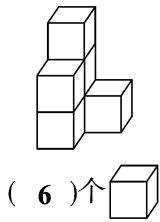
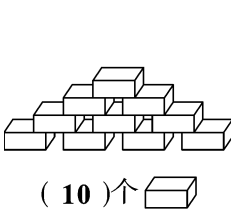
(3) 从右面看,形状是  的图形有(**BD**)。

(4) 从上面看,形状是  的图形有(**CD**)。

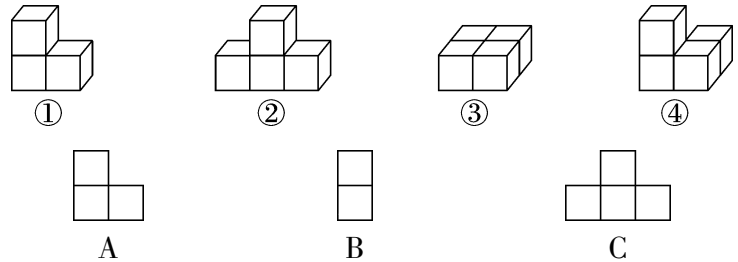
三、看一看,连一连。(18分)



四、数一数。(12 分)

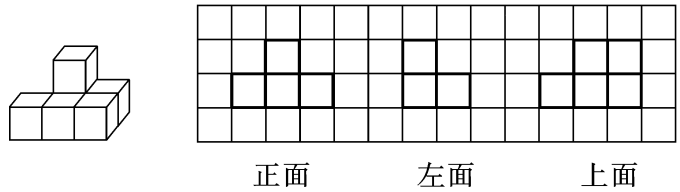


五、先观察,再填一填。(填序号)(12 分)



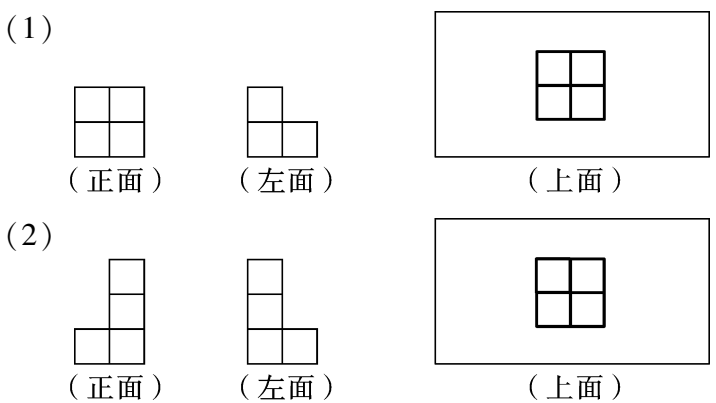
1. 从正面看是图形 A 的有(①④)。
2. 从左面看是图形 B 的有(①②)。
3. 从正面看是图形 C 的有(②)。

六、先观察,再在方格纸上画出从正面、左面和上面看到的立体图形的形状。(12 分)



七、我是小画家。(20 分)

1. 用 6 块相同的正正方体积木拼成的立体图形从正面和左面看到的形状分别如下, 请画出从上面看到的形状。(14 分)



2. 摆一摆,画一画。(6分)



这是我从正面看到的图形。



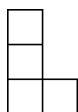
如果是4个正方体,那么该怎样摆?



【答案】自己摆一摆,画一画。

附加题。(10分)

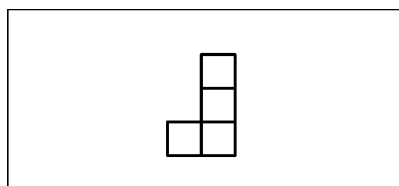
一个立体图形从右面和上面看到的形状分别如下,请分别画出用5个小正方体和用7个小正方体摆成的这个立体图形从正面看到的形状。



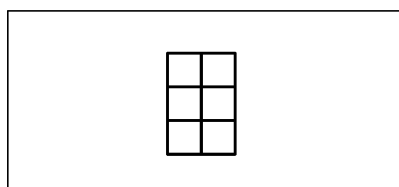
右面



上面



用5个小正方体摆成的立体图形的正面



用7个小正方体摆成的立体图形的正面

动手画一画吧!

