

第三单元素质测评试卷

(总分:100分 时间:60分钟)

题号	一	二	三	四	五	六	七	八	九	附加题	总分
得分											

一、我会填。(15分)

1. 与99相邻的两个数是(98)和(100)。
2. 47的个位上是(7),十位上是(4)。
3. 10个一是(十),10个十是(一百)。
4. 9个十和3个一组成的数是(93)。
5. 84是由(8)个十和(4)个一组成的。
6. 49前面的数是(48),后面的数是(50)。
7. 77后面连续的三个数是(78),(79),(80)。
8. 比20小,且个位和十位上的数相同的两位数是(11)。

二、我是小法官,对错我来判。(6分)

1. 89后面的数是90,表示9个一。 (×)
2. 个位上的8和十位上的8意义相同,都表示8个十。 (×)
3. 76与82之间有5个数。 (√)
4. 位数相同的两个数,最高位上的数大的那个数较大。 (√)
5. 一个两位数,十位上的数是1,个位上的数是5,这个两位数是15。 (√)
6. 用3和7两个数组成的最小两位数是73。 (×)

三、对号入座。(将正确答案的序号填在括号里)(12分)

1. 46和52之间有(A)个数。
A. 5 B. 6 C. 7

2. 比 76 少 1 的数是(**A**)。
- A. 75 B. 77 C. 70
3. 一个数从右边数起,第三位是(**C**)。
- A. 个位 B. 十位 C. 百位
4. 最小的三位数比最小的两位数大(**C**)。
- A. 10 B. 89 C. 90
5. 下面各数中,比 100 少得多的数是(**A**)。
- A. 10 B. 80 C. 90
6. 在 60 和 70 之间,个位和十位上的数字相同的数是(**C**)。
- A. 55 B. 77 C. 66

四、按要求完成下列各题。(12 分)

1. 我来写数。

四十四(**44**) 八十七(**87**) 五十六(**56**)

九十(**90**) 七十三(**73**) 九十九(**99**)

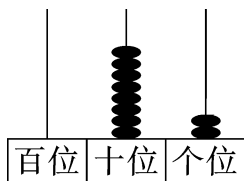
2. 我来读数。

42(**四十二**) 85(**八十五**) 78(**七十八**)

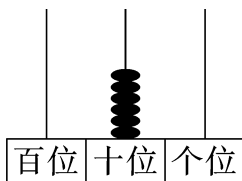
66(**六十六**) 100(**一百**) 34(**三十四**)

五、 按要求做一做。(18 分)

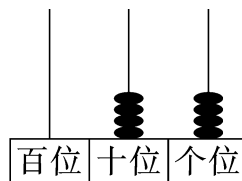
1. 看图写数。(6 分)



(**82**)

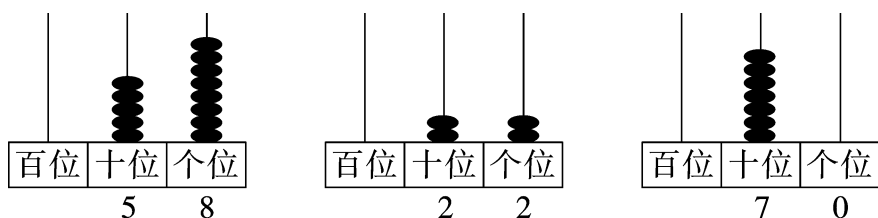


(**60**)

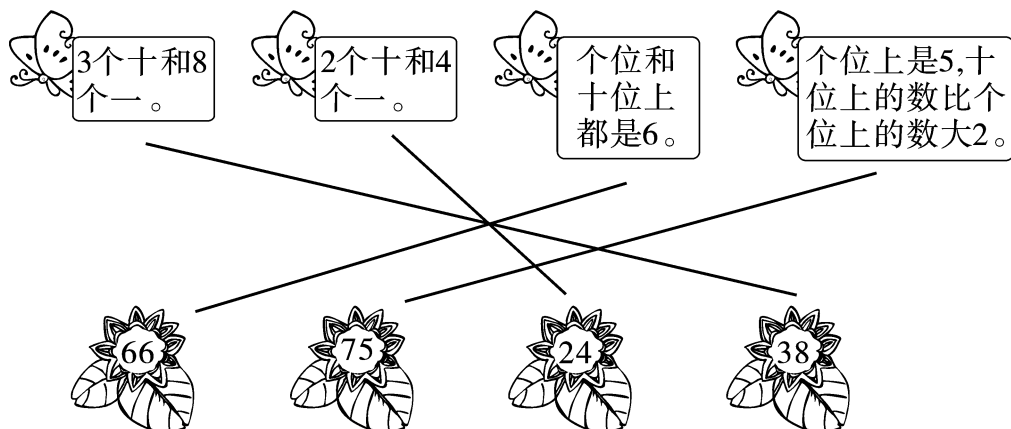


(**44**)

2. 在计数器上画一画。(12 分)



六、蝴蝶应该落在哪朵花上？(连一连)(4 分)



七、计算我最棒。(8 分)

$18-8=10$

$40+9=49$

$37-30=7$

$96-6=90$

$80+7=87$

$30+5=35$

$92-2=90$

$50+8=58$

八、比大小。(10 分)

1. 在 \bigcirc 里填上“>”“<”或“=”。(4 分)

$28 < 82$

$72 < 78$

$62 > 53$

$88 > 85$

$27 = 27$

$81 < 99$

$55 = 55$

$100 > 99$

2. 把下列各式按得数从小到大的顺序排一排。(6 分)

$9+40$

$25-5$

$47-7$



$30+6$

$84-4$

$30+8$

$(25-5) < (30+6) < (30+8) < (47-7) < (9+40) < (84-4)$

九、生活中的数学。(15分)

1.  鱼缸里的金鱼条数比20多得多,比90少一些。 

鱼缸里可能有多少条金鱼?(在合适的答案下面画“△”)(3分)

43 条	85 条	95 条	39 条
	△		





2. 一年级有 46 名同学,在操场上做游戏的有 40 名,没有在操场上做游戏的有多少名同学?(4分)

【答案】 $46-40=6$ (名)

答:没有在操场上做游戏的有 6 名同学。




3. 采花。(8分)



- (1)  和  一共采了多少朵花? (2)  比  少采了多少朵花?

【答案】 $30+9=39$ (朵)

【答案】 $9-7=2$ (朵)

答:  和  一共采了 39 朵花。 答:  比  少采了 2 朵花。

附加题。(10分)

下面算式中的△、○、□各表示的是什么数?

$$63-\triangle=60$$

$$\triangle=(3)$$

$$\bigcirc+6=76$$

$$\bigcirc=(70)$$

$$1+3+\square=84$$

$$\square=(80)$$