

第一单元素质测评试卷

(总分:100分 时间:60分钟)

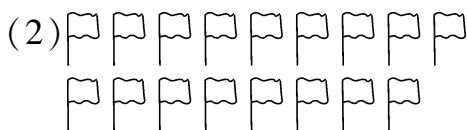
| 题号 | 一 | 二 | 三 | 四 | 五 | 六 | 七 | 附加题 | 总分 |
|----|---|---|---|---|---|---|---|-----|----|
| 得分 | | | | | | | | | |

一、我会填。(34分)

1. 先圈一圈,再算一算。(6分)

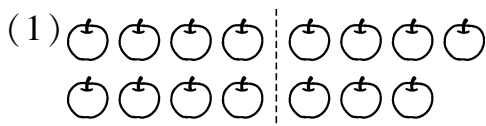


$$13 - 8 = \boxed{5} \text{ (自己圈一圈)}$$



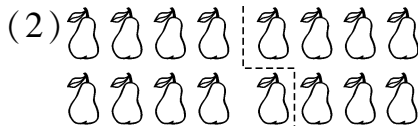
$$17 - 9 = \boxed{8} \text{ (自己圈一圈)}$$

2. 看图列式计算。(16分)



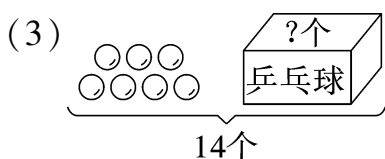
$$15 - \boxed{8} = \boxed{7}$$

$$15 - \boxed{7} = \boxed{8}$$

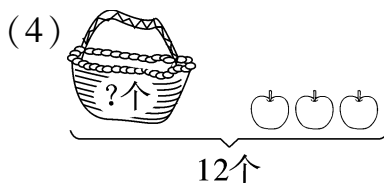


$$16 - \boxed{9} = \boxed{7}$$

$$16 - \boxed{7} = \boxed{9}$$

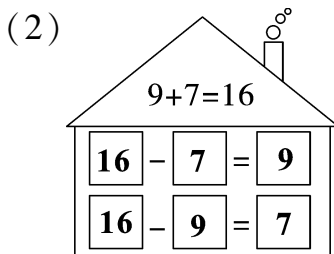
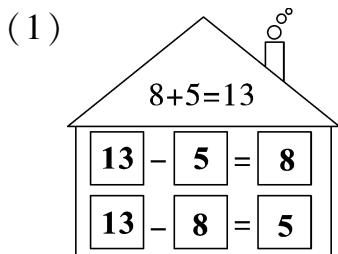


$$\boxed{14} - \boxed{7} = \boxed{7}$$



$$\boxed{12} - \boxed{3} = \boxed{9}$$

3. 看加法算式,写减法算式。(12分)



二、计算训练营。(21 分)

1. 小小口算家。(4 分)

$7+8=15$

$15-9=6$

$11-2=9$

$17-8=9$

$14-6=8$

$11-6+8=13$

$8+7-9=6$

$8+6-9=5$

2. 在 \bigcirc 里填上“+”或“-”。(8 分)

$15 \bigcirc 9 = 6$

$18 \bigcirc 9 = 9$

$6 \bigcirc 7 = 13$

$11 \bigcirc 2 = 9$

$14 \bigcirc 5 = 9$

$2 \bigcirc 9 = 11$

$8 \bigcirc 6 = 14$

$7 \bigcirc 6 = 1$

3. 在 \bigcirc 里填上“>”“<”或“=”。(9 分)

$13-6 \bigcirc 5$

$16-7 \bigcirc 7$

$2+9 \bigcirc 10$

$11-8 \bigcirc 5$

$12-2 \bigcirc 10$

$8+9 \bigcirc 16$

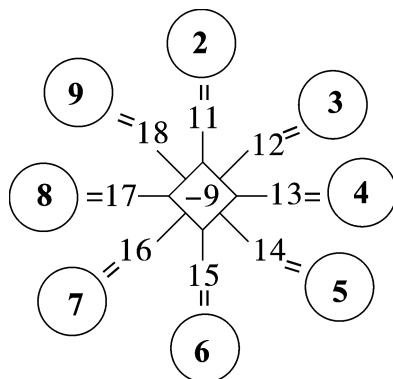
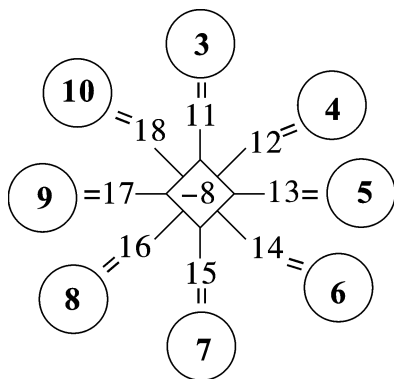
$10+3 \bigcirc 5$

$11-5 \bigcirc 5$

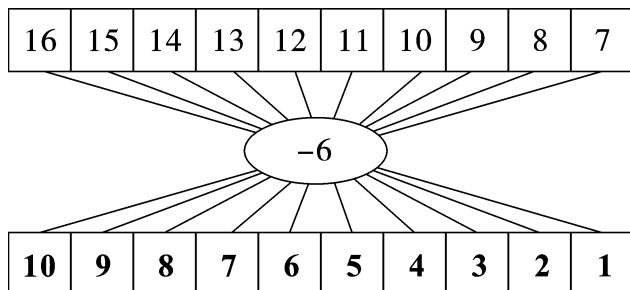
$12-5 \bigcirc 7$

三、算一算，填一填。(13 分)


1.



2.



四、帮小动物们找食物。(连一连)(4分)



五、用5,9,14 写出两道加法算式和两道减法算式。(8分)

| | |
|--------------|--------------|
| $5 + 9 = 14$ | $9 + 5 = 14$ |
| $14 - 9 = 5$ | $14 - 5 = 9$ |

六、完成下面的表格。(6分)



| | 原有 | 吃了 | 还剩 |
|--|----------|---------|---------|
| | 12 个 | 6 个 | (6) 个 |
| | (15) 个 | 8 个 | 7 个 |
| | 13 个 | (4) 个 | 9 个 |

七、生活中的数学。(14分)


1. 兵兵还剩几个气球?(3分)

兵兵有16个气球，飞走了7个。

【答案】 $16-7=9$ (个)
 答:兵兵还剩 9 个气球。

2. 停车场有 14 辆 , 开走一些后, 还剩 7 辆, 开走了多少辆 ?(3 分)

【答案】 $14-7=7$ (辆)

答:开走了 7 辆 。

3. (4 分)



冬冬和青青一共折了14只纸鹤, 冬冬折了8只, 青青折了多少只纸鹤?

【答案】 $14-8=6$ (只)

答:青青折了 6 只纸鹤。

4. 草地上有 18 条毛毛虫。



我捉了6条毛毛虫。

我捉了3条毛毛虫。



草地上现在还有多少条毛毛虫?(4 分)

【答案】 $18-6-3=9$ (条)

答:草地上现在还有 9 条毛毛虫。

附加题。(10 分)

小芳有 15 支 , 小竹有 9 支 , 小芳给小竹几支  后两个人的铅笔支数就一样多?

【答案】 $15-9=6$ (支) $6-3=3$ (支)

答:小芳给小竹 3 支  后两个人的铅笔支数

就一样多。

仔细想想哟!

