

# 第六单元素质测评试卷

(总分:100分 时间:60分钟)

题号	一	二	三	四	五	六	七	八	九	附加题	总分
得分											

## 一、我会填。(12分)

1. 笔算加法时,相同数位要( **对齐** ),从( **个** )位加起,个位满十,向十位( **进1** )。
2. 笔算减法时,( **相同数位** )要对齐,从( **个** )位减起,( **个** )位不够减,从( **十** )位退1,在( **个** )位上加10再减。
3. 被减数是67,减数是8,差是( **59** )。
4. 比76少20的数是( **56** ),比47多4的数是( **51** )。
5. 一个加数是54,另一个加数是16,和是( **70** )。

## 二、对号入座。(将正确答案的序号填在括号里)(4分)

1. 一个数加2是91,这个数减2是( **A** )。  
A. 87                                      B. 89                                      C. 95
2. 与 $51+37$ 的结果相等的算式是( **C** )。  
A.  $42+54$                                       B.  $91-22$                                       C.  $36+52$
3. 小朋友排队,小东是从前面数的第8个,从后面数的第12个,这一队一共有( **C** )个小朋友。  
A.  $8+12+1$                                       B.  $10+12$                                       C.  $8+12-1$
4. 最小的两位数与最大的两位数相差( **A** )。  
A. 89                                      B. 99                                      C. 91

## 三、我是计算小能手。(12分)

1. 直接写出得数。(6分)

$$42+10=52$$

$$61-20=41$$

$$72+9=81$$

$40-20=20$

$71-11=60$

$60-30=30$

$50+20=70$

$57-13=44$

$70-20=50$

$56+15=71$

$46-12=34$

$40+40=80$

2. 竖式计算我最棒。(6分)

$26+47=73$

$84-75=9$

$65-27=38$

$$\begin{array}{r} 26 \\ + 47 \\ \hline 73 \end{array}$$

$$\begin{array}{r} 84 \\ - 75 \\ \hline 9 \end{array}$$

$$\begin{array}{r} 65 \\ - 27 \\ \hline 38 \end{array}$$

四、给得数比 60 大的鱼涂上红色,给得数比 60 小的鱼涂上黄色。(8分)

$36+25$

$91-38$

$89-36$

$73-18$

$27+54$

$60-29$

$82-37$

$96-28$

【答案】自己涂一涂。

五、风筝连线。(10分)



$84$

$61$

$58$

$36$

$28$

六、在  $\bigcirc$  里填上“>”“<”或“=”。(6分)

$43-19 < 34$

$67-60 < 17$

$65+18 > 68$

$64+7 > 70$

$6+56 = 62$

$54-9 > 40$

七、在( )里填上适当的数。(9分)

$(45) + 35 = 80$

$70 - (28) = 42$

$56 + (35) = 91$

$45 + (51) = 96$

$51 - (39) = 12$


$47 + (51) = 98$

$(47) + 19 = 66$

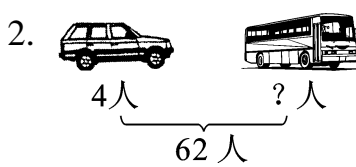
$46 - (34) = 12$

$75 - (59) = 16$

八、看图列式计算。(6分)

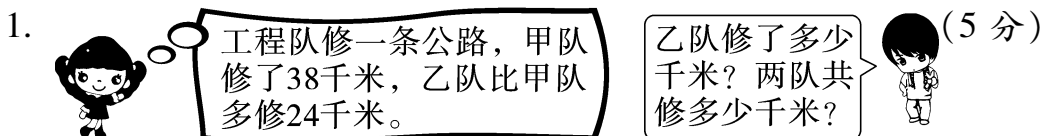


$$\boxed{36} \oplus \boxed{18} = \boxed{54}$$



$$\boxed{62} \ominus \boxed{4} = \boxed{58}$$

九、生活中的数学。(33分)



【答案】 $38 + 24 = 62$  (千米)  $62 + 38 = 100$  (千米)

答：乙队修了 62 千米，两队共修 100 千米。



【答案】 $30 - 13 = 17$  (个)

答：妈妈买了 17 个梨。

3. 小松鼠已经吃了 37 个松果,还剩 26 个。原来有多少个松果?(7 分)

**【答案】** $37+26=63$ (个)

答:原来有 63 个松果。

4. 二年级做了 32 个风筝,一年级做了 9 个,一年级还要做多少个风筝才和二年级的同样多?(8 分)

**【答案】** $32-9=23$ (个)

答:一年级还要做 23 个风筝才和二年级的同样多。

5. 在跳绳比赛中,小冬跳了 37 下,小新跳了 62 下,小刚跳了 80 下,小新比小冬多跳了多少下? 小刚比小新多跳了多少下?(8 分)

**【答案】** $62-37=25$ (下)  $80-62=18$ (下)

答:小新比小冬多跳了 25 下,小刚比小新多跳了 18 下。

### 附加题。(10 分)

小马虎做减法时,错把减数 16 写成了 18,结果算得 12,你知道正确的差是多少吗?

**【答案】** $18+12=30$   $30-16=14$

答:正确的差是 14。